

Actividades

1

En el siguiente cuadro escribe todas las sumas de dos dígitos que dan 10 y píntalas de un mismo color:

+	1	2	3	4	5	6	7	8	9
1									
2									
3									
4									
5									
6									
7									
8									
9									

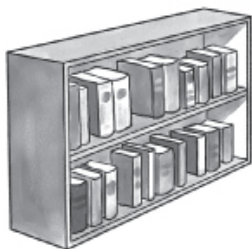
2

En un curso hay 16 hombres y 3 mujeres. ¿Cuántos estudiantes hay en el curso?

Respuesta:

.....

Lee el siguiente problema, anota los datos en el esquema y responde la pregunta.




En la biblioteca hay 14 libros de literatura chilena; llegó una donación de 5 libros. ¿Cuántos libros hay después de esta donación en la biblioteca?

Respuesta:

3

Lee los siguientes problemas, anota los datos en el esquema y responde la pregunta.



En el primero básico A hay 19 alumnos de los cuales 7 son niños.
¿Cuántas son niñas?

Respuesta:


Tengo \$20 ahorrados; necesito retirar \$12.
¿Cuánto dinero me queda?



Respuesta:

4

Lean los siguientes problemas, anoten los datos y respondan cada pregunta.



En el quiosco de la escuela había 15 chocolates. Durante el día se vendieron 3.
¿Cuántos quedan aún?

Respuesta:

En la sala de clases hay 7 tijeras rojas y 9 amarillas.
¿Cuántas tijeras hay en total?

Respuesta:

Cecilia recibió 7 CD de regalo para su cumpleaños. Ella tenía 3 CD.
¿Cuántos tiene ahora?



Respuesta: