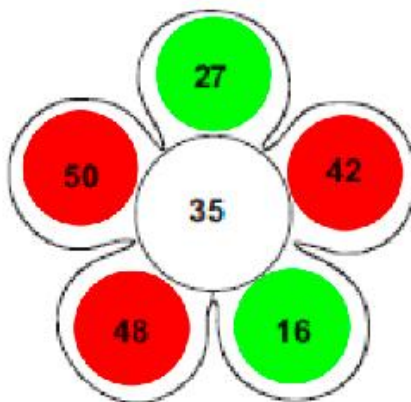
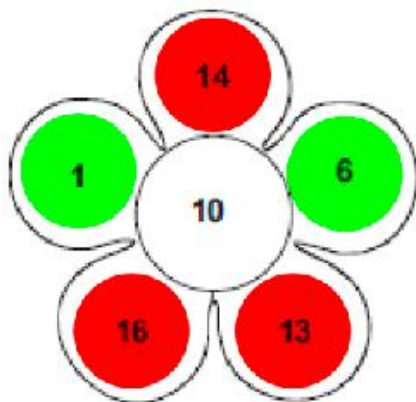
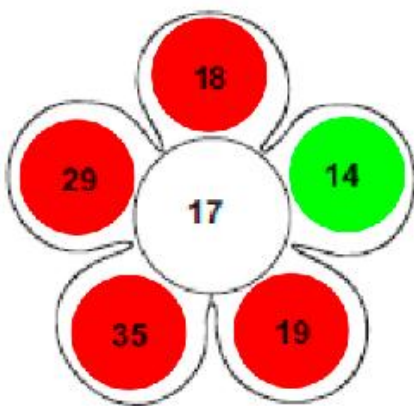
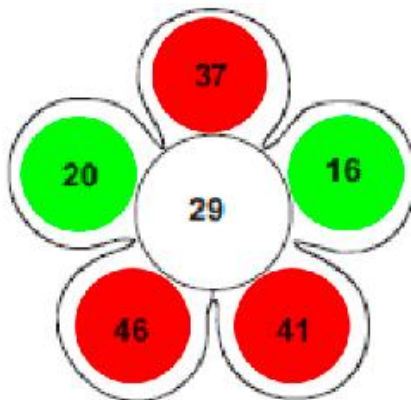
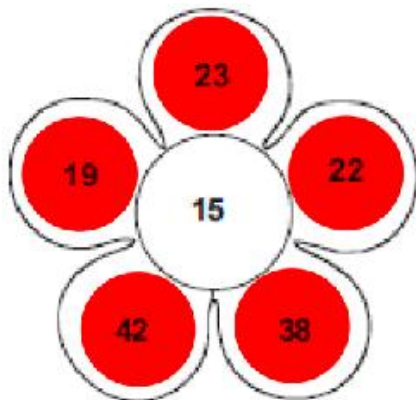


**PAUTA - ACTIVIDADES: COMPARAR NÚMEROS MENORES A 100 A**

1. Pinte de color rojo los números mayores que el número del centro de la flor y de color verde los números menores.



2. Escriba un número que sea menor que:

19 23

12 41

3. Escriba un número que esté **inmediatamente** después de:

19 20

37 38



4. Complete las tablas escribiendo un número natural que este justo antes de (antecesor), entre dos números dados, o inmediatamente después de (sucesor), según corresponda:

Número justo antes de	
11	12
14	15
26	27
10	11
25	26

Número entre		
14	15	16
34	35	36
23	24	25
27	28	29
31	32	33

Número justo después de	
9	10
30	31
25	26
17	18
42	43

Antecesor	
38	39
36	37
9	10
8	9
3	4

Número entre		
8	9	10
46	47	48
5	6	7
48	49	50
15	16	17

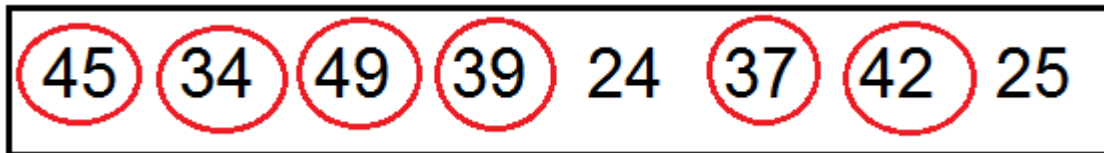
Sucesor	
5	6
13	14
1	2
4	5
34	35

Antecesor	
41	42
7	8
34	35
16	17
48	49

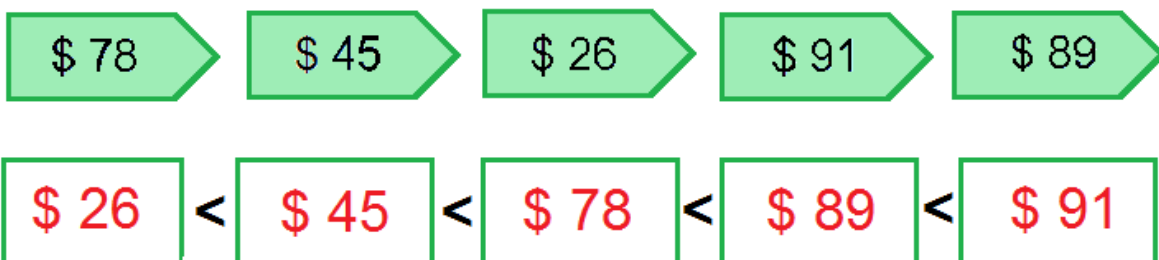
Número entre		
37	38	39
1	2	3
11	12	13
39	40	41
12	13	14

Sucesor	
49	50
15	16
35	36
29	30
24	25

5. Encierre con un lápiz de color los números que sean mayores que 30



6. Ordene los precios de menor a mayor:



7. Complete escribiendo números según se indica

a) Dos números anteriores



b) Un número entre



c) Dos números siguientes



d) Un número justo antes y un número justo después



8. Escriba dos números distintos que pueda formar con los siguientes dígitos. Luego ordénelos de mayor a menor.

4 y 5	8 y 7
$\frac{45}{-}$ , $\frac{54}{-}$	$\frac{78}{-}$ , $\frac{87}{-}$
$\frac{54}{-} > \frac{45}{-}$	$\frac{87}{-} > \frac{78}{-}$