

DÍA 37: SOLUCIONARIO

2. ¿Cuándo se hicieron las compras, en la mañana o en la tarde?

Tarde

3. Completa.

a) 1 día = 24 horas.

b) 60 minutos = 1 hora.

c) Las 13 en punto es lo mismo que la 1 de la tarde.

d) Mediodía es lo mismo que las 12 en punto de la tarde.

4. Mira el reloj y contesta.



a) ¿Qué hora será en 30 minutos más?

9:30

b) ¿Cuánto falta para las 10 en punto?

1 hora

Marca la alternativa correcta.

5. Mira el reloj y responde.

¿Qué hora será en media hora más?

a) 10:30

b) 11:00

c) 09:30

6. Las 14 horas es lo mismo que:

a) Las 3 de la tarde.

b) Las 2 de la tarde.

c) Las 2 de la mañana.

DÍA 38: SOLUCIONARIO

1. Responde usando este diagrama.

a) ¿Qué hora es 3 horas después de las 11 en punto de la mañana?

2:00

14:00

b) ¿Qué hora es 2 horas antes de las 13 en punto de la tarde?

11:00

c) ¿Cuánto tiempo hay entre las 9:30 y las 12:00 de la mañana?

2

horas y

30

minutos.

Resuelve.

2. Pilar fue de compras con su mamá. Salieron a las 14:30, volvieron a las 16:00. ¿Cuánto tiempo estuvieron comprando?

Respuesta:

1

horas y

30

minutos.

Usa el diagrama para responder.

a) ¿A qué hora empezó a estudiar Rodrigo?

18:00

b) ¿A qué hora salió Rodrigo del colegio?

16:00

Usando el diagrama, responde la pregunta 4 y 5.

4. María fue a dar un paseo de 1 hora y media y llegó a las 16 horas a su casa ¿A qué hora salió María a pasear?

a) 14:30

b) 15:30

c) 14:00

5. ¿Qué hora es media hora antes de las 11:00 horas?

a) 11:30

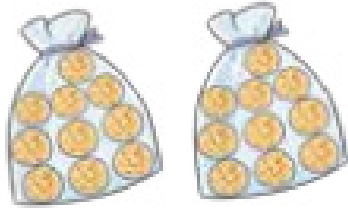
b) 10:30

c) 12:30

DÍA 39: SOLUCIONARIO

1. Escribe la expresión para cada problema.

a) Ana tiene 20 galletas y José tiene 10 ¿Cuántas galletas tienen en total?



Galletas de Ana



Galletas de José

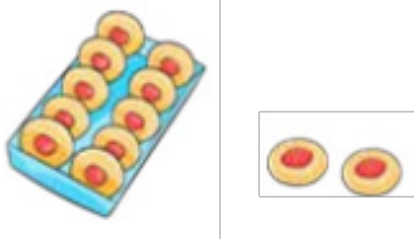
Expresión: $20 + 10$

b) Carlos ayer leyó 15 páginas de su libro. Hoy leyó 12 ¿Cuántas páginas en total ha leído?

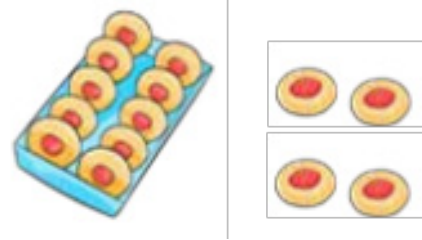
Expresión: $15 + 12$

Marca la expresión que resuelve el problema.

2. La mamá de Josefa cocinó 12 pasteles en la mañana y por la tarde cocinó 14 pasteles más ¿cuántos pasteles cocinó en total?



Por la mañana



En la tarde

- a) $12 + 14$
- b) $14 - 12$
- c) $12 + 12$

3. Ana juntó 11 hojitas de otoño en un canasto y Caro juntó 16 ¿Cuántas hojitas tienen entre las dos?

- a) $16 - 11$
- b) $11 + 16$
- c) $16 + 16$

DÍA 40: SOLUCIONARIO

1. Encontramos respuestas usando la forma vertical.

a) $31 + 57$

	3	1
+	5	7
<hr/>		
	8	8

b) $18 + 40$

	1	8
+	4	0
<hr/>		
	5	8

c) $26 + 43$

	2	6
+	4	3
<hr/>		
	6	9

d) $32 + 20$

	3	2
+	2	0
<hr/>		
	5	2

2. Encontramos los resultados usando la forma vertical.

a) $4 + 23$

		4
+	2	3
<hr/>		
	2	7

b) $7 + 82$

		7
+	8	2
<hr/>		
	8	9

c) $91 + 8$

	9	1
+		8
<hr/>		
	9	9

d) $65 + 3$

	6	5
+		3
<hr/>		
	6	8

Marca la alternativa correcta.

6. ¿Cuál es el resultado de $3 + 64$?

a) 94

b) 37

~~c) 67~~

		3
+	6	4
<hr/>		
	6	7

7. ¿Cuál es la suma de $52 + 21$? . ¿Cuál es la suma de $52 + 21$?

~~a) 73~~

b) 64

c) 74

	5	2
+	2	1
<hr/>		
	7	3

SOLUCIONARIO EVALUACIÓN SEMANAL

1. b)

2. c)

3. c)

4. c)