

1

 <p>Traje 20 dulces</p>	 <p>Y yo traje estos</p>	 <p>Ahora que juntamos los dulces, tenemos ___ dulces</p>
--	---	--




Anota tus cálculos:

2

<p>Saquemos naranjas y las juntamos en un canasto.</p> 	 <p>Saqué 16 naranjas</p> <p>Y yo saqué 4</p>	<p>¿Cuántas naranjas hay en el canasto?</p>  <p>Hay naranjas.</p>
---	---	---

Anota tus cálculos:

3

<p>Echemos las naranjas en un canasto.</p> 	 <p>Había 13 naranjas y yo eché 6 más</p>	<p>¿Cuántas naranjas hay ahora en el canasto?</p>  <p>Hay naranjas.</p>
--	--	--

Anota tus cálculos:

4

<p>Tengo 5 lápices</p> 	<p>Y yo también</p> 	<p>Ahora que juntamos los lápices, hay el doble</p> 
<p>¿Cuántos lápices hay? Hay lápices. Anota tus cálculos:</p>		

5

<p>Diego tenía estos perritos.</p> 	<p>Y le regalaron estos otros.</p> 	<p>Ahora tiene el doble.</p> <p>¿Cuántos perritos tiene Diego?</p> <p>Tiene perritos.</p>
<p>Anota tus cálculos:</p>		

6

<p>Inventa un problema que se resuelva con esta suma: $10 + 8$. Calcula lo que se pide.</p>		

7

¿Cuántas manzanas tiene Pedro si tiene el doble de las que se ven?



Tiene manzanas.