

PAUTA ACTIVIDADES: CONTEO Y ADICIONES UTILIZANDO MONEDAS

1. Complete en el espacio señalado tal como se muestra en el ejemplo:

a.



70

setenta



90

noventa



100

cien

b.



75

setenta y cinco



95

noventa y cinco



55

cincuenta y cinco

c.



90

noventa



56

cincuenta y seis



100

cien

d.



60

sesenta



30

treinta



65

sesenta y cinco

e.



70

setenta



55

cincuenta y cinco




85

ochenta y cinco


2. Observa y completa de la misma manera:

a.




80 + 3 = 83

b.



50 + 10 = 60

c.



30 + 1 = 31