



nombre \_\_\_\_\_  
curso \_\_\_\_\_ fecha \_\_\_\_\_


**PAUTA ACTIVIDADES: PATRONES Y SECUENCIAS 2**

1. Encierre en un círculo la o las imágenes que se repiten y que forman un patrón de repetición:

a)	
b)	
c)	

2. Dibuje las imágenes que podrían estar a continuación:

a)	
b)	
c)	



3. Continúe la secuencia numérica sabiendo que cada término se forma sumando los dos números anteriores:



4. Continúe la secuencia sabiendo que cada término se forma sumando los dos números anteriores:



5. Continúe la secuencia numérica sabiendo que cada término se forma restando cuatro unidades al número anterior.

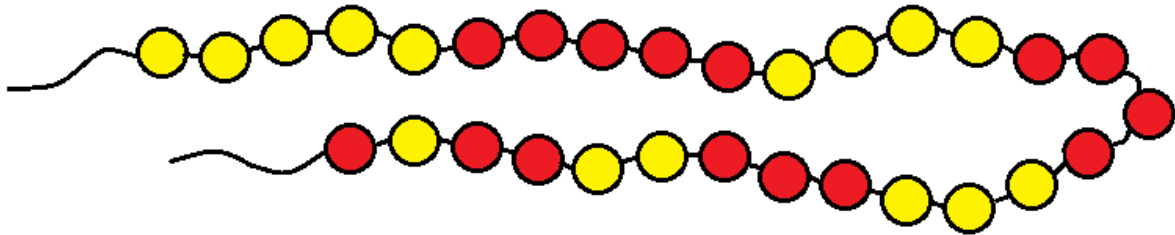


6. Continúe la secuencia numérica sabiendo que cada término se forma restando tres unidades al número anterior.




7. Observe el siguiente dibujo de un collar. Está compuesto por bolitas amarillas y rojas.


- a) Encuentre un patrón y pinte el resto del collar siguiendo el patrón que encontró.



- b) Pinte la bolita del mismo color que estará pintada la siguiente bolita de acuerdo a su patrón.



- c) Pinte la bolita del mismo color que estará pintada la última bolita de acuerdo a su patrón.



8. Dibuje 1 collar e indique el patrón utilizado.

Hay muchas respuestas: A continuación un ejemplo:



Patrón: El collar se forma colocando dos bolitas con puntitos, dos bolitas con rayas y una blanca y así sucesivamente.