


**ACTIVIDADES: LEER E INTERPRETAR DATOS DESDE TABLAS Y PICTOGRAMAS**




**Actividad 1:** Diego realiza una encuesta a sus amigos y les pregunta por sus animales preferidos.



- a) ¿A cuántos niños le preguntó?.....
- b) ¿Cuántos prefieren al perro?.....
- c) ¿Cuántos prefieren al gato?.....

- d) ¿Cuántos prefieren a la paloma?.....
- e) ¿Cuántos prefieren al caballo?.....
- f) ¿Cuántos prefieren al pollo?.....

**Actividad 2:** Rocío pregunta a sus amigos por el sabor de helado que más les gusta. Cuenta las marcas para saber la cantidad. Escribe el número total de preferencias.

HELADO	CONTEO	TOTAL
 CHOCOLATE		
 VAINILLA		
 FRUTILLA		
<b>TOTAL</b>		

**Elaborado por:** Programa de Educación Rural División de Educación General; Ministerio de Educación  
Módulo didáctico para la enseñanza y el aprendizaje de la asignatura de Matemática en escuelas rurales multigrado.