






PAUTA ACTIVIDADES: LEER E INTERPRETAR DATOS DESDE TABLAS Y PICTOGRAMAS

Actividad 1: Diego realiza una encuesta a sus amigos y les pregunta por sus animales preferidos.

| | | | | |
|---|---|---|--|---|
|  |  |  |  |  |
| | | | | |

a) ¿A cuántos niños le preguntó?...**24**...

b) ¿Cuántos prefieren al perro?.....**7**....




c) ¿Cuántos prefieren al gato?.....**5**....

d) ¿Cuántos prefieren a la paloma?...**3**...

e) ¿Cuántos prefieren al caballo?.....**5**....

f) ¿Cuántos prefieren al pollo?...**4**.....

Actividad 2: Rocío pregunta a sus amigos por el sabor de helado que más les gusta. Cuenta las marcas para saber la cantidad. Escribe el número total de preferencias.

| HELADO | CONTEO | TOTAL |
|---|--------|-----------|
|  CHOCOLATE | | 10 |
|  VAINILLA | | 7 |
|  FRUTILLA | | 6 |
| TOTAL | | 23 |

Elaborado por: Programa de Educación Rural División de Educación General; Ministerio de Educación.
Módulo didáctico para la enseñanza y el aprendizaje de la asignatura de Matemática en escuelas rurales multigrado.