

ACTIVIDADES: ADICIONES Y SUSTRACCIONES CON NÚMEROS MENORES A 100

1. Resuelva los siguientes problemas completando los espacios que se indican.

a.

Hay 50 galletas



Agrego 9 más



Ahora hay

galletas




b.

Hay 71 flores




Se vende 4



Ahora hay

flores



c.

Hay 25 bebidas



Se consume 8



Ahora hay

bebidas



d.

Hay 36 pelotas



Se vendió 9




Ahora hay pelotas




e.


Tengo 80 clips



Regalé 44



Ahora tengo clips



2. En la imagen se muestra la cantidad de bombones que preparó mi mamá. Si yo en varios días me comí un total de 33, ¿cuántos bombones quedaron?

☪☪ ☪☪ ☪☪ ☪☪ ☪☪	☪☪ ☪☪ ☪☪ ☪☪ ☪☪	☪☪ ☪☪ ☪☪ ☪☪ ☪☪
☪☪ ☪☪ ☪☪ ☪☪ ☪☪	☪☪ ☪☪ ☪☪ ☪☪ ☪☪	☪☪ ☪☪ ☪☪ ☪☪ ☪☪
☪☪ ☪☪ ☪☪ ☪☪ ☪☪	☪☪ ☪☪ ☪☪ ☪☪ ☪☪	☪☪ ☪☪ ☪☪ ☪☪ ☪☪
☪☪ ☪☪ ☪☪ ☪☪ ☪☪	☪☪ ☪☪ ☪☪ ☪☪ ☪☪	
☪☪ ☪☪ ☪☪ ☪☪ ☪☪	☪☪ ☪☪ ☪☪ ☪☪ ☪☪	
☪☪ ☪☪ ☪☪ ☪☪ ☪☪	☪☪ ☪☪ ☪☪ ☪☪ ☪☪	

Quedaron
bombones.

3. Resuelva los siguientes problemas:

- a. Un bus parte de Temuco a Collipulli. En la primera parte recorre 76 kilómetros y en la segunda parte recorre 24 kilómetros. ¿Qué distancia recorre el bus entre ambas ciudades?



- b. Luis Felipe tenía 65 láminas en su álbum. Su mamá le regaló otras láminas más. Ahora tiene 90 láminas. ¿cuántas láminas le regaló su mamá?